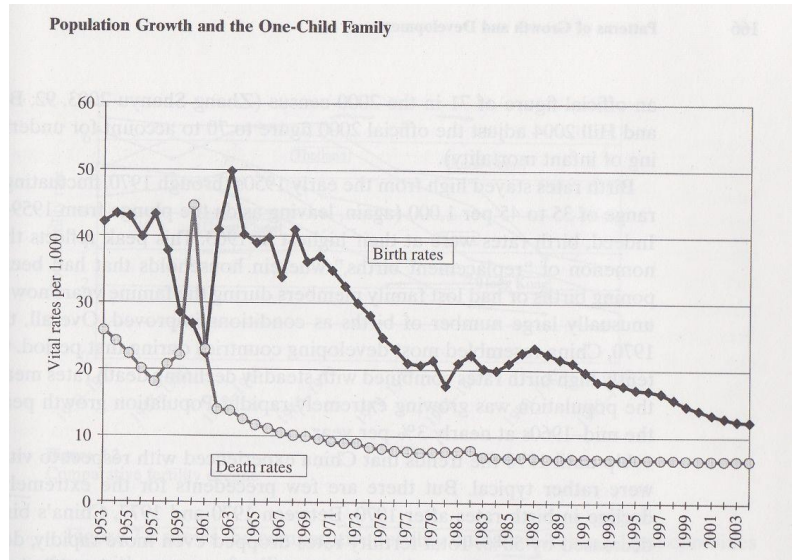


# Demografi opgave 7

## KINAS DEMOGRAFISKE UDVIKLING

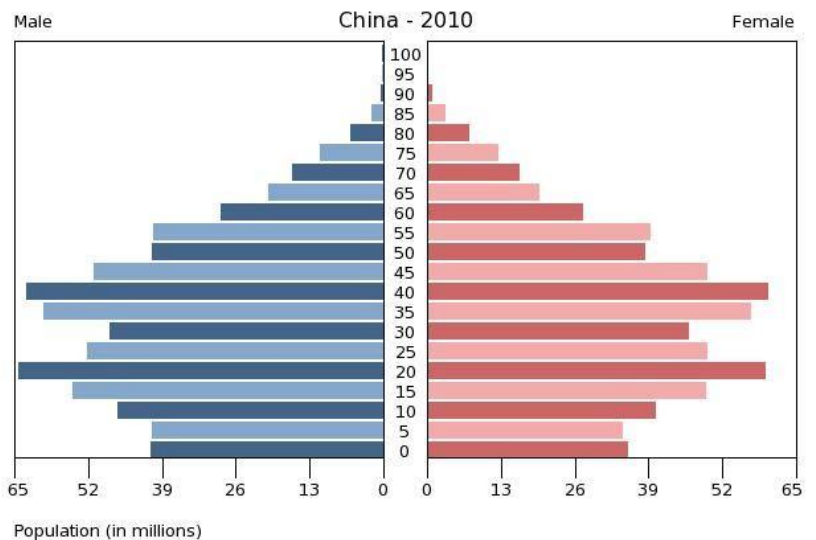
Opgaver:

1. Beskriv befolkningsudviklingen i Kina ud fra figuren t.h.  
Angiv herunder markante ændringer, herunder i størrelsen af befolkningstilvæksten
2. Hvilke faser i den demografiske transition gennemløber Kina i perioden?
3. Hvad er karakteristisk for fødselsraten og befolkningstilvæksten på det tidspunkt hvor et-barns-politikken indføres?



4. Forklar hvorfor et barns politikken alligevel indføres på dette tidspunkt?
5. Hvilke midler / metoder anvendes i et-barns politikken?
6. Find argumenter for og imod Kinas et-barns politik!
7. Hvordan vurderes resultaterne af et-barns politikken ?

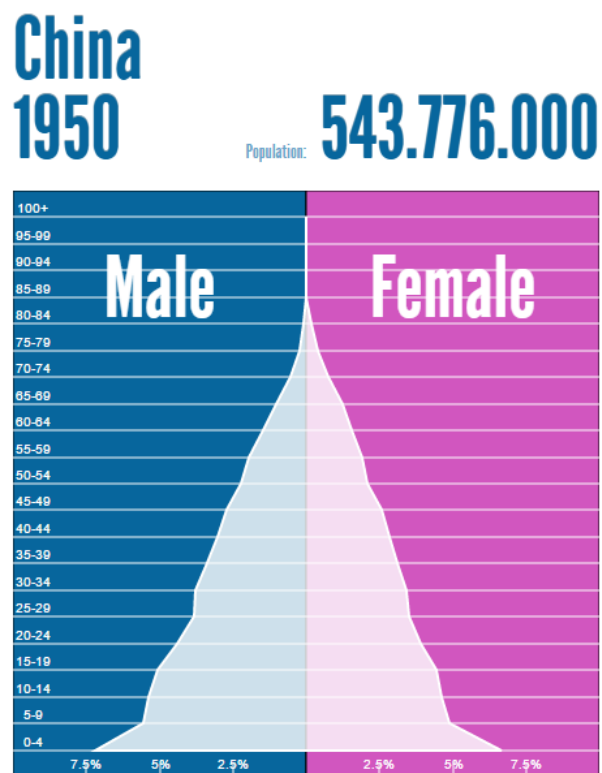
8. Beskriv hvad der er karakteristisk for **Kinas befolkningspyramide 2010**. Bemærk x-aksen !!



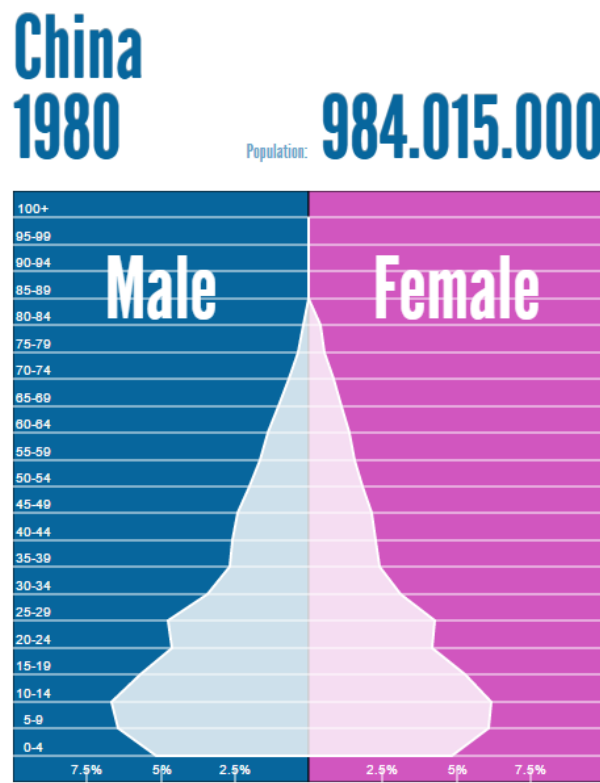
9. Hvordan kan man se konsekvenserne af et-barns politikken i pyramiden?
10. Hvorfor tror du at man i 2015 har ophævet ét barns politikken i Kina og nu tillader to børn pr familie?

### Kinas befolkning i absolutte tal

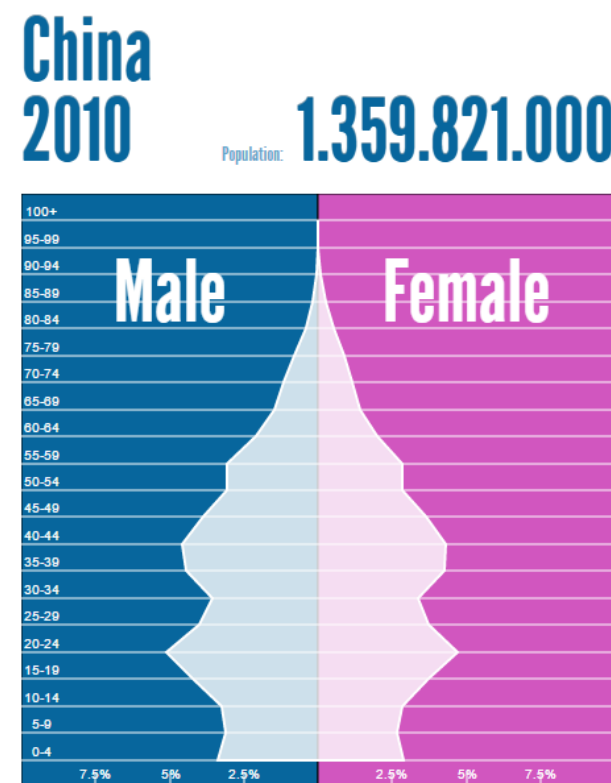
11. Hvor meget voksede **Kinas befolkningstal** fra 1950 til 1980 : \_\_\_\_\_ og igen fra 1980 til 2010 \_\_\_\_\_?
  
12. I 1968 var der ca. 800 mio. kinesere. Aflæs befolkningstilvæksten på den første figur \_\_\_\_\_ % og beregn hvor mange flere kinesere der kom i året 1968 \_\_\_\_\_ mio
  
13. I perioden 2010-2015 er fødselsraten 13,4 ‰ og dødsraten 7,2 ‰. Hvad er befolkningstilvæksten i % ? \_\_\_\_\_  
 Hvad svarer det til i antal personer, \_\_\_\_\_ hvis vi tager befolkningstallet i 2010 som udgangspunkt ?



Link to this graph: <http://populationpyramid.net/china/1950/>



Link to this graph: <http://populationpyramid.net/china/1980/>



Link to this graph: <http://populationpyramid.net/china/>